


Nome ..... **VERIFICA** cl. ....

1) Cosa vuol dire “orientarsi” ? .....  
.....  
.....  
.....


2) Quali sono i punti cardinali ? .....  
.....  
.....

3) **1** Scrivi i punti cardinali al posto giusto.

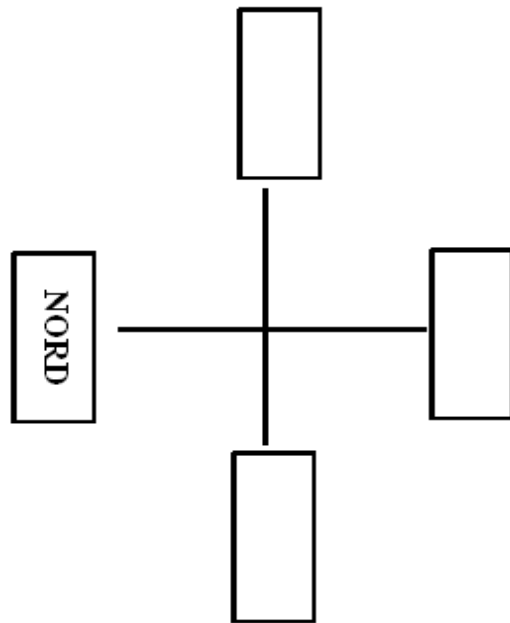
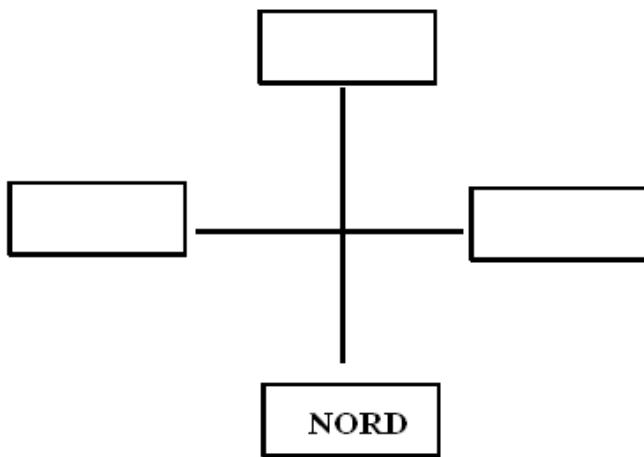
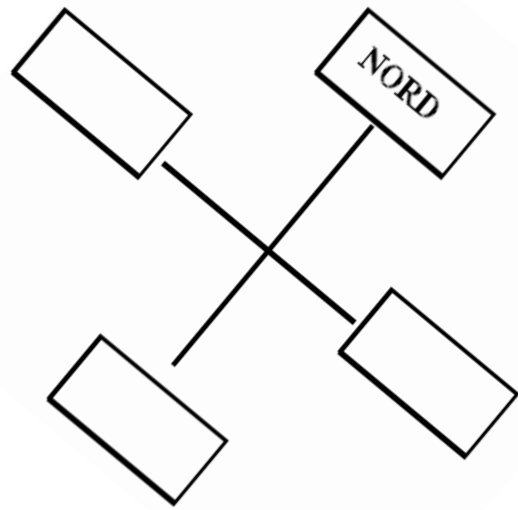
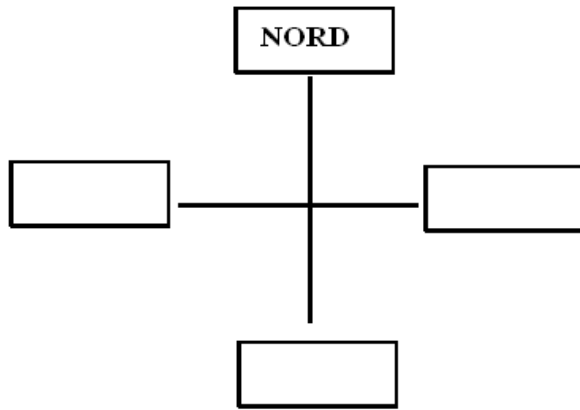


4) Completa  
Il sole sorge a ..... (detto anche .....)  
.....)  
Il sole tramonta a .....(detto anche .....)  
.....)  
Il sole a mezzogiorno è alto nel cielo, è a .....  
(detto anche .....)  
Il punto opposto al sud è il .....(detto anche .....)

5) Inserisci i punti di cardinali e i punti cardinali intermedi nella giusta posizione.



6)



7) Completa

E' mattina stai guardando il sole che

# Di fronte a te hai .....

# Alle tue spalle c'è .....

# Alla tua destra c'è .....

# Alla tua sinistra c'è .....

8) Come ti potresti orientare:

\* di notte? .....

\* in mezzo al mare durante un temporale .....

9) Guardando una carta geografica in alto troverai .....

a in basso ....., a destra ..... a sinistra .....