

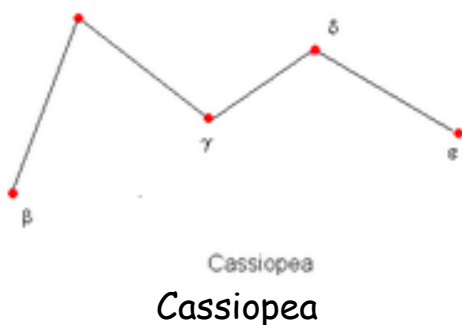
Di notte

Se è una notte serena e riusciamo a vedere le stelle, possiamo cercare la **stella polare**.

È una stella poco luminosa, che fa parte del Piccolo Carro, la sua particolarità però è che si trova sempre sopra al NORD.

Per trovarla proviamo ad orientarci in questo modo:

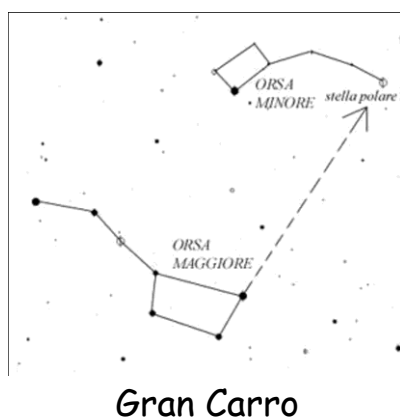
Cerchiamo la costellazione di **Cassiopea**, sono 5 stelle abbastanza luminose disposte a zig zag che se idealmente unite formano una grande W.



Spostiamo ora lo sguardo verso la nostra sinistra e cerchiamo poco distante la costellazione dell'Orsa Maggiore (chiamata anche Gran Carro).

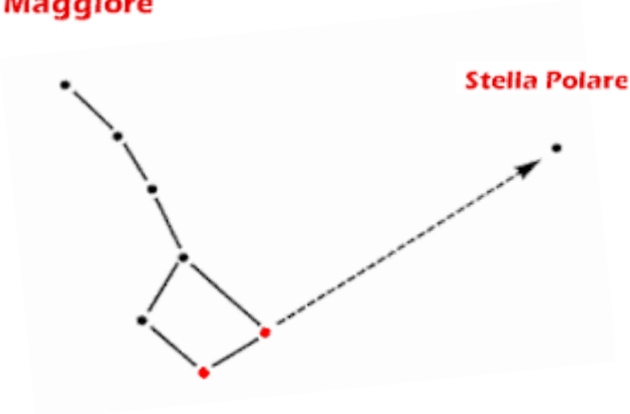
Sono 7 stelle molto luminose, che formano la figura di un carro con un timone ricurvo.

Questa costellazione è molto più grande di Cassiopea.

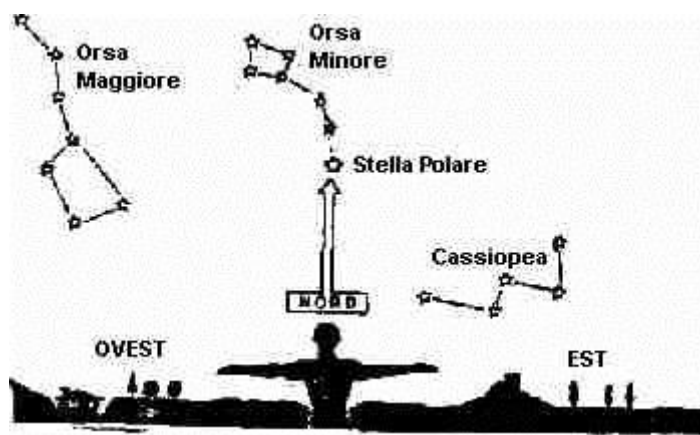
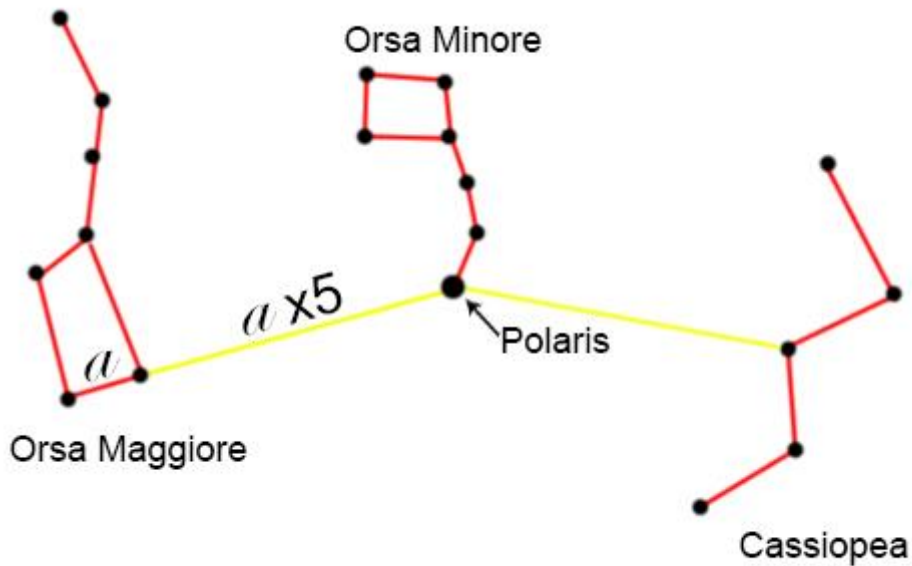


Ora non ci resta che unire idealmente le due stelle inferiori del grande carro e prolungando questa linea di cinque volte all'esterno trovare una stella isolata, di luminosità simile alle altre due stelle: quella è la **Stella Polare**

Orsa Maggiore



La stella Polare è l'astro più lucente della costellazione dell'Orsa Minore e fa parte con altre sette stelline del PICCOLO CARRO che si trova fra le due costellazioni del Grande Carro e Cassiopea.



Una volta localizzata la stella Polare abbiamo trovato il Nord

Leggi la carta dell'Italia e completa con **NORD, SUD, EST, OVEST**.

+

L'Emilia Romagna è a _____ del Molise.

La Valle d'Aosta è a _____ del Friuli.

Il Veneto è a _____ dell'Umbria.

La Campania è a _____ della Puglia.

La Calabria è a _____ della Basilicata.

Il Friuli è a _____ della Lombardia.

L'Abruzzo è a _____ del Lazio.

La Liguria è a _____ del Piemonte.

La Toscana è a _____ dell'Emilia R.

La Puglia è a _____ della Sicilia.

La Sicilia è a _____ della Sardegna.

La Sardegna è a _____ del Lazio.

L'Italia è bagnata:

a _____ dal mar Adriatico,

a _____ dal mar Ionio,

a _____ dal mar Tirreno,

a _____ dal mar Ligure,

a _____ dal mar Mediterraneo.

La Liguria è bagnata a _____ dal mar Ligure.

Il Lazio è bagnato a _____ dal mar Tirreno.

La Sicilia è bagnata a _____ dal mar Ionio, a _____ dal mar Mediterraneo e a _____ dal mar Tirreno.

I PUNTI CARDINALI LE CARTE

Osserva la carta geografica, rifletti e rispondi.

Sulle carte geografiche i punti cardinali sono generalmente segnati così:

- Il **NORD** in alto;

- Il **SUD** in basso;

- L'**EST** a destra;

- L'**OVEST** a sinistra.

Francesco prende l'aereo a

Venezia per andare a Roma e dice: "Vado verso Sud".

L'affermazione di Francesco è esatta? _____.

Luna prende l'aereo a Palermo per andare a Roma e dice: "Vado verso Nord".

L'affermazione di Luna è esatta? _____.

Dario prende il treno da Ancona per Roma e dice: "Vado verso Est".

L'affermazione di Dario è esatta? _____.

Valentina prende il treno da Napoli per Bari e dice: "Vado verso Est".

L'affermazione di Valentina è esatta? _____.

Ilaria deve viaggiare in automobile partendo da Milano per arrivare a Napoli e dice: "Vado verso Nord".

L'affermazione di Ilaria è esatta? _____.

OSSERVANDO LA CARTA GEOGRAFICA completa indicando la posizione con i punti cardinali anche intermedi.

Rispondi indicando la posizione con i punti cardinali (prima di rispondere devi tenere presente il punto di riferimento).

La Puglia si trova a _____ del Piemonte.

Il Trentino Alto Adige si trova a _____ della Sardegna.

La Sardegna si trova a _____ della Sicilia.

La Sicilia si trova a _____ della Sardegna.

Le Marche si trovano a _____ del Lazio.

Il Lazio si trova a _____ delle Marche.

Dove si trova Bari rispetto a Foggia? _____

Dove si trova Foggia rispetto a Lecce? _____

Dove si trova Lecce rispetto a Taranto? _____

Dove si trova Taranto rispetto a Brindisi? _____

Dove si trova Brindisi rispetto a Bari? _____

Dove si trova Firenze rispetto a Bari? _____

Dove si trova Firenze rispetto a Milano? _____

Dove si trova Napoli rispetto a Palermo? _____

Dove si trova la Sardegna rispetto alla Toscana? _____

Dove si trova Torino rispetto a Venezia? _____

Dove si trova Bari rispetto a Roma? _____

Dove si trova Venezia rispetto a Genova? _____

Dove si trova Catanzaro rispetto a Bologna? _____

Dove si trova Bologna rispetto ad Assisi? _____

Italia

Città principali



